

Konal(a) zkoušku



Vyloučen(a)



Nepřítomen(na) či nedokončil(a)



MATEMATIKA 7A

List 1 ze 2

Jméno
a příjmení

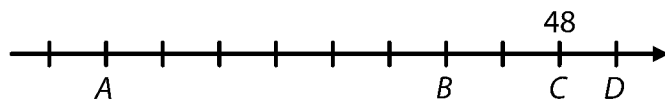
DIDAKTICKÝ TEST – STRANA 1–4

1

2

2.1

2.2



3

Uvedte postup řešení.

3.1

3.2

4

4.1	4.2
-----	-----

5

5.1	5.2
-----	-----

6

Uvedte postup řešení.

6.1


6.2

6.3


7

7.1	7.2	7.3	7.4
-----	-----	-----	-----

8 Obtáhněte vše propisovací tužkou.



9 Obtáhněte vše propisovací tužkou.



10 A N

10.1

10.2

10.3

A B C D E

11

12

13

14

15 A B C D E F

15.1

15.2

15.3

16

16.1

16.2

16.3